

Chapter 1

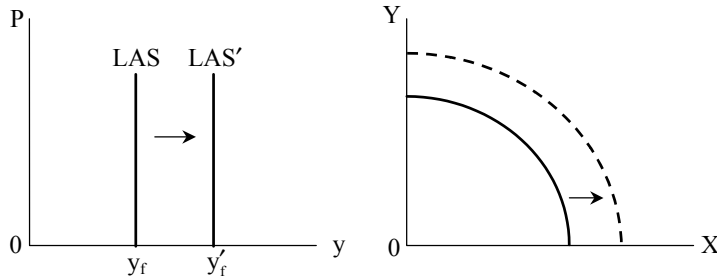


緒論

1. 一種財貨同時具有消費非敵對性及無排他性的，稱為： (A)私有財 (B)公共財 (C)混合財 (D)民間財。 (B)
 ▶ 「不可排他性」指無法阻止他人坐享其成，可以「搭便車」；
 「非敵對性」指增加消費量不損及他人之效用。具此二特徵之產品為「公共財」。
2. 政府干預市場活動引發的不良副作用及其能力的限制，稱為： (C)
 (A)市場失靈 (B)干預政策 (C)政府失靈 (D)自由市場。
 ▶ 政府失靈 (government failure) 指政府為挽救市場失靈而祭出政策，反而遭致市場運作更缺乏效率，其原因可能是直接民主、代議政府、官僚體制、分權制度的結果。
3. 下列那一項原因能導致市場失靈？ (A)完全競爭市場 (B)外部性 (B)
 (C)私有財 (D)不課租稅。
 ▶ 市場失靈原因包括外部性、公共財、自然獨占及資訊不對稱。
4. 生產可能性曲線可用以闡述下列何種概念？ (A)自由放任經濟體系 (B)
 (B)機會成本 (C)均衡 (D)總需求。
 ▶ 生產可能曲線上不同點之移動，表示機會成本，答案為(B)。
5. 私有財具有： (A)排他性，非敵對性 (B)非排他性，敵對性 (C)排他性，敵對性 (C)
 (D)非排他性，非敵對性。
 ▶ 私有財具「排他性」(他人無法「坐享其成」)及「敵對性」(增加消費必降低原使用者之效用)。
6. 經濟成長，由圖形來看為： (A)總供給曲線左移 (B)總需求曲線左移 (C)
 (C)生產可能性曲線右移 (D)生產可能性曲線左移。
 ▶ 經濟成長若由總合供需模型分析，係指長期總合供給線 (LAS)

1-2 Chapter 1 緒論

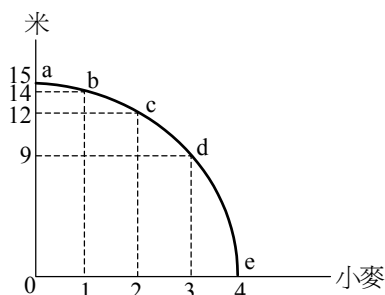
右移（即潛在產出 y_f 增加）；若以生產可能曲線表示，即PPC右移，答案為(C)。



7. 隨著經濟發展，道路交通愈顯擁擠，塞車嚴重，此種現象為： (B)
- (A)規模不經濟 (B)外部不經濟 (C)外部經濟 (D)規模經濟。
- 經濟發展使交通擁塞，乃「外部不經濟」，指本產業以外之其他因素引起（時間）成本上升之現象。
8. 下列何種財貨，常會有「搭便車」（free-rider）的問題？ (D)
- (A)貿易財 (B)自由財 (C)私有財 (D)公共財。
- 公共財具「不可排他」與「非敵對性」，亦即有free-rider問題。
9. 經濟學始祖亞當斯密（Adam Smith）所謂「看不見的手」（invisible hand）指的是： (A)
- (A)市場機制 (B)政府政策 (C)賽局策略 (D)懲罰機制。
- 「看不見的手」指「市場機制」（market mechanism），市場能引導資源有效配置。答案為(A)。
10. 醫療保險中，被保險人有一定的自付額度（例如掛號費），這樣的規定是為了避免以下何種問題？ (C)
- (A)被保險人有反向選擇（adverse selection） (B)保險公司有道德危險（moral hazard） (C)被保險人有道德危險（moral hazard） (D)保險公司與被保險人之間擁有對稱的訊息（symmetric information）。
- 因為訊息不對稱，擁有私人訊息之一方隱藏該訊息，造成交易結果為「劣幣驅逐良幣」之特徵，是為「逆向選擇」；交易完成後，擁有私人訊息之一方有作出「利己不利他」行為之動機，是為「道德危險」。醫療險中，被保險人有一定自付額，是為了防止被保險人小病也看大醫院，沒病也上醫院等諸如此類，「將保

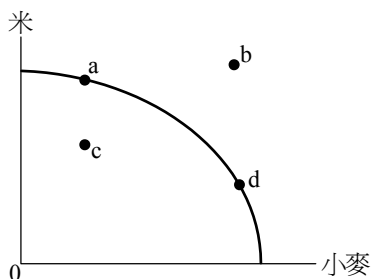
費賺回來」的心理，即道德危險，故應選(C)。

11. 下圖為某農場之米與小麥的生產可能線，則增產第3單位小麥之機會成本為： (A) $\frac{1}{3}$ 單位米 (B) 3單位米 (C) 9單位米 (D) $\frac{1}{9}$ 單位米。



► c點至d點，小麥多生產第3單位，米之產量由12減為9，減少3單位，答案為(B)。

12. 在下圖的米與小麥組合之生產可能線中，那個位置達到生產效率？ (A) 點a (B) 點b (C) 點c (D) 點a與點d皆是。



► PPC線上之a，d點皆有生產效率，選(D)。

13. 台灣追求經濟成長的同時，過度耗用自然資源，例如產生嚴重之缺水問題，全民皆嚐到苦果，這就是印證了那項道理？ (A) 天下為公，世界大同 (B) 適者生存，不適者淘汰 (C) 天下沒有白吃的午餐 (D) 人定勝天。

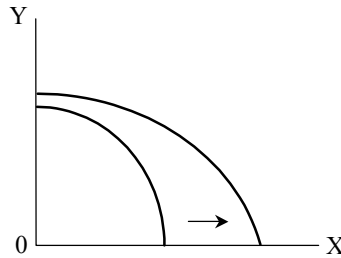
► 利用資源所付出之代價，稱「機會成本」，此即「天下沒有白吃的午餐」。答案為(C)。

14. 在其他條件不變下，資本存量增加，會造成： (A) 經濟成長提高 (A)

1-4 Chapter 1 緒論

(B)經濟成長下降 (C)經濟成長不受影響 (D)對經濟成長之效果無法確定。

▶▶ 資本存量增加，會使經濟成長，生產可能曲線外移且偏向資本密集財 (X財) 移動幅度更大。答案為(A)。



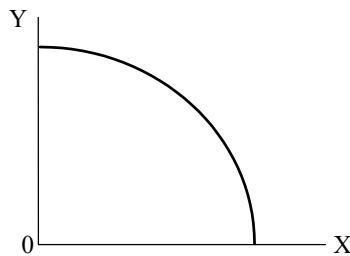
15. 當政府干預市場後對於經濟效率、公平與安定所帶來的效益，無法彌補社會付出的代價，這種現象稱為： (A)市場失靈 (B)政府失靈 (C)無謂損失 (deadweight loss) (D)外部成本。 (B)

▶▶ 市場失靈 (market failure) 指因外部性、公共財等原因，使市場運作無法令市場效率達成；政府失靈 (government failure) 則指政府干預無法達成市場效率。故應選(B)。

16. 生產可能線往外凸出，這表達了那一個重要的經濟觀念？ (A)機會成本遞減 (B)邊際替代率遞減 (C)邊際成本遞增 (D)經濟成長。 (C)

▶▶ 生產可能曲線向外凸 (即凹向原點)，如圖所示，表示機會成本遞增 (邊際成本遞增)，應選(C)。

注意：不可只看凸或凹，還要看其方向 (如向外或向內)。



17. 醫院為了怕SARS影響醫院之營運而隱匿疫情不報，造成疫情擴大。醫院這種行為，造成： (A)社會利益低於私人利益 (B)社會利益高於私人利益 (C)社會成本低於私人成本 (D)社會成本大於私人 (D)

成本。

► 醫院隱匿疫情導致疫情嚴重，為「外部成本」，故使社會成本大於私人成本，答案為(D)。

18. 有線電視和收費的高速公路屬於何種財貨？ (A) 私有財 (B) 準私有財 (C) 公共財 (D) 準公共財。 (D)

► 有線電視與收費之高速公路，具有可排他性（無法坐享其成）與共享性（增加消費量不降低他人效果），屬於「準公共財」，答案為(D)。

19. 下列那項是社會成本大於私人成本的例子？ (A) 清境農場成為著名旅遊景點後，大量興建民宿，造成塵土飛揚，破壞景觀 (B) 小林種植數株龍眼樹，隔壁養蜂戶的蜜蜂也飛來採蜜 (C) 小陳養了一千頭豬，豬的排泄物都先經過妥善處理，並未直接排入河川 (D) 小麗熱愛園藝，庭院遍植花木，隔壁的鄰居也都能聞到花香。 (A)

► (B) 錯誤，有外部利益，使社會成本低於私人成本。

(C) 錯誤，沒有外部成本。

(D) 錯誤，有外部利益，使社會成本低於私人成本。

(A) 正確，有外部成本，故社會成本大於私人成本。

20. 下面那些觀念是正確的？①大學生上課的成本不只是學雜費；②國有土地閒置的成本為零；③使用自己的資金是有利息成本的；④使用自己的土地可以省下租金 (A) ①② (B) ③④ (C) ①③ (D) ②④。 (C)

► 大學生上課之成本除學雜費外，尚有放棄正職工作之薪水，①正確；國有土地閒置，其成本為充當其他用途之價值（例如可暫充停車場，或出借予企業皆可獲得收入），故②錯誤；使用自己之資本，其成本為放棄借貸用途之收益，③正確；使用自己的土地，其成本為放棄出租予別人可獲得之收入，故④錯誤。本題答案為(C)。

21. 下列情況，何者有外部效益？ (A) 七夕夜河濱公園施放煙火，美不勝收 (B) 流動攤販聚集，製造髒亂 (C) 民宅失火，眾人圍觀，消防車難以進火場救災 (D) 電鍍工廠排放污水，毒死魚蝦。 (A)

► 「外部利益」指交易者以外之個體所獲之利益，應選(A)。

22. 下列那一個政策可以算是考慮到外部效益？ (A) 課菸酒稅 (B) 取締 (C)