

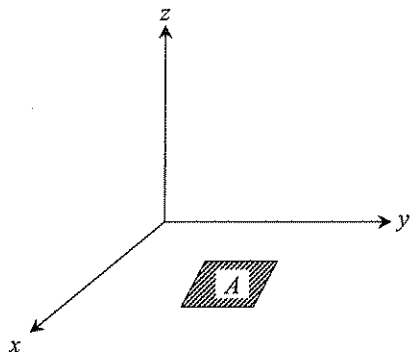
6.1 多重積分的意義

在介紹多變數之後，本章再將定積分概念導入，介紹所謂的多重積分。

多重積分 (multiple integral) 即為兩個以上變數的積分，以下分別說明各種多重定積分的幾何意義：

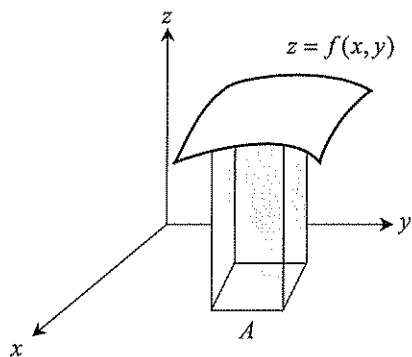
1. 雙重積分 $\iint_A dA$:

如下圖，為面積積分範圍內的面積 A 。



2. 雙重積分 $\iint_A f(x, y) dA$:

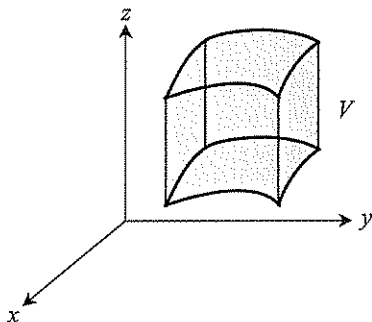
如下圖，為空間中積分範圍 A 以上、 $z = f(x, y)$ 以下的體積。



6-4 微積分

3. 三重積分 $\iiint_V dV$:

如下圖，為空間中積分範圍內的體積。



基本上，多重積分只有在以上的情形下才有其幾何意義，其他例如： $\iiint_V F(x,y,z)dV$ 等，都只是純粹數學的運算。

然而，在配合多樣的積分型式之後，即能衍生出更多種的幾何意義，例如表面積、側面積等等。積分的型式有以下幾種：

1. 軸向積分：

沿著座標軸的積分，例如： $\int_a^b f(x)dx$ 、 $\iint_A f(x,y)dA$

2. 線積分：

沿著一條曲線的積分，例如： $\int_C gds$

3. 面積分：

沿著空間中的面積的積分，例如： $\iint_A h d\sigma$

6.2 多重積分的計算

6.2.1 傅比尼定理 (Fubini)

多重積分的計算是從單變數積分衍生而來的，在多重積分的過程中變數之間必須視為獨立，舉個例來說，雙重積分 $\iint_A F(x,y)dxdy$ 式子中由內而

外，先對 x 積分再對 y 積分，積分變數 x 時， y 必須視為常數。在此情形下，基本上只要界定出積分範圍 A ，可將積分順序 $dA = dx dy$ 改為 $dA = dy dx$ ，但仍有以下的限制：

傅比尼定理 (Fubini)：

設 $F(x, y)$ 在有界區域 $A: [a, b] \times [c, d]$ 內為連續函數，則

$$\iint_A F(x, y) dA = \int_c^d \int_a^b F(x, y) dx dy = \int_a^b \int_c^d F(x, y) dy dx$$

Attention.

若 $F(x, y)$ 在 A 非連續，則不可交換積分順序！

• 試題 1 •

Evaluate $\int_1^2 \int_4^9 \frac{3+5y}{\sqrt{x}} dx dy$.

(92政大財政)

Sol:

$$\begin{aligned} \text{原式} &= \int_1^2 \int_4^9 \frac{3+5y}{\sqrt{x}} dx dy = \int_1^2 (3+5y) (2\sqrt{x}) \Big|_4^9 dy \\ &= 2 \int_1^2 3+5y dy = 2 \left(3y + \frac{5}{2} y^2 \right) \Big|_1^2 = 21 \end{aligned}$$

• 試題 2 •

試以重積分算出 $E = \left\{ (x, y) \mid \frac{x^2}{9} + \frac{y^2}{16} \leq 1 \right\}$ 之面積。

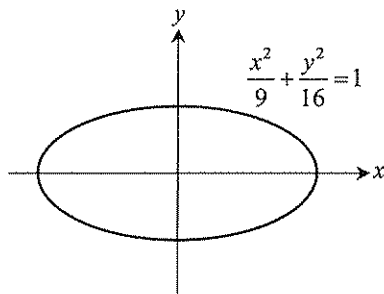
(88雲科大工管)

Sol:

如右圖，圖形面積 $\frac{x^2}{9} + \frac{y^2}{16} \leq 1$ ，

$$\text{令 } x = 3r \cos \theta, y = 4r \sin \theta$$

$$\Rightarrow J = \begin{vmatrix} 3 \cos \theta & -3r \sin \theta \\ 4 \sin \theta & 4r \cos \theta \end{vmatrix} = 12r$$



6.3.3 求重心

求重心的方式是以(力矩和)÷(重量和)的方式求取, 假設 ρ 為密度函數, 則各種重心的求法如下:

1. 線重心:

$$\bar{x} = \frac{\int_C x \rho ds}{\int_C \rho ds}, \quad \bar{y} = \frac{\int_C y \rho ds}{\int_C \rho ds}$$

2. 平面重心:

$$\bar{x} = \frac{\iint_R x \rho dx dy}{\iint_R \rho dx dy}, \quad \bar{y} = \frac{\iint_R y \rho dx dy}{\iint_R \rho dx dy}$$

3. 體積重心:

$$\bar{x} = \frac{\iiint_V x \rho dx dy dz}{\iiint_V \rho dx dy dz}, \quad \bar{y} = \frac{\iiint_V y \rho dx dy dz}{\iiint_V \rho dx dy dz}, \quad \bar{z} = \frac{\iiint_V z \rho dx dy dz}{\iiint_V \rho dx dy dz}$$

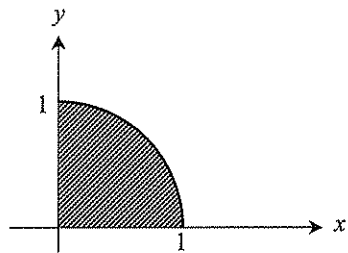
• 試題 5 •

(a, b) 是 $x^2 + y^2 \leq 1, x \geq 0, y \geq 0$ 之區域的中心, 求 (a, b) 。(88台科大工管)

Sol:

由題意, 化成極座標, 令 $x = r \cos \theta, y = r \sin \theta \Rightarrow J = r$

$$\begin{aligned} a &= \frac{\int_0^{\frac{\pi}{2}} \int_0^1 (r \cos \theta) r dr d\theta}{\int_0^{\frac{\pi}{2}} \int_0^1 r dr d\theta} = \frac{\int_0^{\frac{\pi}{2}} \frac{1}{3} \cos \theta d\theta}{\int_0^{\frac{\pi}{2}} \frac{1}{2} d\theta} \\ &= \frac{\frac{1}{3} (\sin \theta) \Big|_0^{\frac{\pi}{2}}}{\frac{\pi}{4}} = \frac{4}{3\pi} \end{aligned}$$



$$\begin{aligned} b &= \frac{\int_0^{\frac{\pi}{2}} \int_0^1 (r \sin \theta) r dr d\theta}{\int_0^{\frac{\pi}{2}} \int_0^1 r dr d\theta} = \frac{\int_0^{\frac{\pi}{2}} \frac{1}{3} \sin \theta d\theta}{\int_0^{\frac{\pi}{2}} \frac{1}{2} d\theta} = \frac{\frac{1}{3} (-\cos \theta) \Big|_0^{\frac{\pi}{2}}}{\frac{\pi}{4}} = \frac{4}{3\pi} \end{aligned}$$

• 試題 6 •

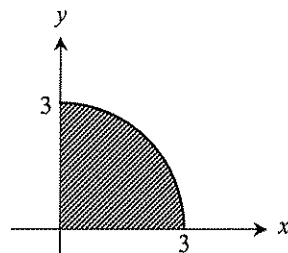
有一圓盤： $A = \{(x, y) \mid x^2 + y^2 \leq 9, x > 0, y > 0\}$ ，其密度函數為
 $\sigma = x^2 y$ ，求其質心。
 (93中央工管)

Sol:

$$\bar{x} = \frac{\iint_R x \sigma \, dx dy}{\iint_R \sigma \, dx dy}, \text{ 化爲極座標, 令 } x = r \cos \theta, y = r \sin \theta \Rightarrow J = r$$

$$\Rightarrow \frac{\int_0^{\frac{\pi}{2}} \int_0^3 r^5 \cos^3 \theta \sin \theta \, dr d\theta}{\int_0^{\frac{\pi}{2}} \int_0^3 r^4 \cos^2 \theta \sin \theta \, dr d\theta} = \frac{243}{2} \frac{\int_0^{\frac{\pi}{2}} \cos^3 \theta \sin \theta \, d\theta}{\int_0^{\frac{\pi}{2}} \cos^2 \theta \sin \theta \, d\theta}$$


$$= \frac{5 \left(\frac{-\cos^4 \theta}{4} \right) \Big|_0^{\frac{\pi}{2}}}{2 \left(\frac{-\cos^3 \theta}{3} \right) \Big|_0^{\frac{\pi}{2}}} = \frac{15}{8}$$



$$\bar{y} = \frac{\iint_R y \sigma \, dx dy}{\iint_R \sigma \, dx dy}, \text{ 化爲極座標}$$

$$\Rightarrow \frac{\int_0^{\frac{\pi}{2}} \int_0^3 r^5 \cos^2 \theta \sin^2 \theta \, dr d\theta}{\int_0^{\frac{\pi}{2}} \int_0^3 r^4 \cos^2 \theta \sin \theta \, dr d\theta} = \frac{243}{2} \frac{\int_0^{\frac{\pi}{2}} \cos^2 \theta \sin^2 \theta \, d\theta}{\int_0^{\frac{\pi}{2}} \cos^2 \theta \sin \theta \, d\theta}, \text{ 利用Beta函數}$$

$$= \frac{5}{2} \frac{\frac{1}{2} \beta\left(\frac{3}{2}, \frac{3}{2}\right)}{\frac{1}{2} \beta\left(\frac{3}{2}, 1\right)} = \frac{5}{2} \frac{\frac{\Gamma\left(\frac{3}{2}\right) \Gamma\left(\frac{3}{2}\right)}{\Gamma(3)}}{\frac{\Gamma\left(\frac{3}{2}\right) \Gamma(1)}{\Gamma\left(\frac{5}{2}\right)}} = \frac{15\pi}{32}$$

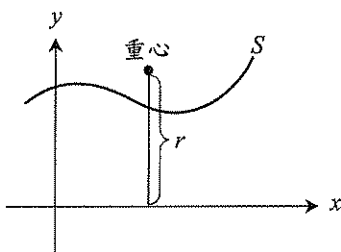
 重心的應用——Pappus定理：

重心在幾何學中有一項重大的應用——「Pappus定理」。

1. 求旋轉體表面積：

如下圖，假設曲線長 S ，求得線重心後，計算線重心至旋轉軸的距離 r ，則旋轉體表面積 A 為：

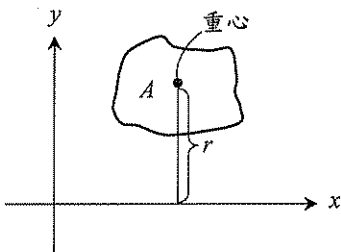
$$A = 2\pi r \times S = 2\pi rS$$



2. 求旋轉體體積：

如下圖，假設平面面積 A ，求得平面重心後，計算線重心至旋轉軸的距離 r ，則旋轉體體積 V 為：

$$V = 2\pi r \times A = 2\pi rA$$



• 試題 7 •

Let S be the solid obtained by revolving the region
 $D = \{(x, y) \mid (x-2)^2 + y^2 \leq 1, y \geq 0\}$ around the line $y = x$. The volume of
 S is ? (85清大)